

# శ్రీ శ్రీనివాస రామానుజన్ టాలెంట్ టెస్ట్ -2014 (తవల్-2)

నిర్వహణ: ELA - ఎలా? ( ఎమర్జింగ్ లెర్నర్స్ అసోసియేషన్- పెద్ద దోర్నాల)

తేది: 15-12-2014

## కనీస సాధారణ పరిజ్ఞానం

01. వివేక్ వాళ్ళ నాన్నకు నలుగురు కుమారులు

ఉన్నారు. అందులో ముగ్గురి పేర్లు రాము, లక్ష్మణ్, భరత్. అయితే నాల్గవ వాని పేరు ఏమిటి?

- ఎ) శత్రువు                      బి) శత్రుఘ్న  
సి) శత్రు                         డి) ఏదీ కాదు





02. ఏదైనా ఒక కాగితమును గరిష్టంగా ఎన్ని మడతలు

వేయవచ్చును? (మధ్యకు మడవాలి తర్వాత మరలా మధ్యకు మడవాలి తర్వాత .....)

- ఎ) 7                                బి) 9  
సి) 12                              డి) ఎన్నైనా

03. ఇటీవల హద్ హద్ తుఫాను బాధితుల కొరకు

సినీ కళాకారులు నిర్వహించిన మేము సైతం కార్యక్రమం లోగే

- ఎ)                       బి)   
సి)                       డి) 

04. అద్దంలో మన ముఖం స్పష్టంగా కనబడాలంటే

- ఎ) మన ముఖంపై కాంతి పడాలి  
బి) అద్దం పై కాంతి పడాలి  
సి) ముఖానికి అద్దానికి మధ్యలో కాంతి పడాలి  
డి) తల వెనుకవైపు నుండి కాంతి అద్దంపై పడాలి

05. క్రింది వానిలో ఏ జంతువు పిల్లలను కనదు?

- ఎ) గబ్బిలము                      బి) కుందేలు  
సి) ముంగిస                      డి) ప్లాటిపస్

06. కొత్తిమీర మొక్క నుండి లభించేవి.

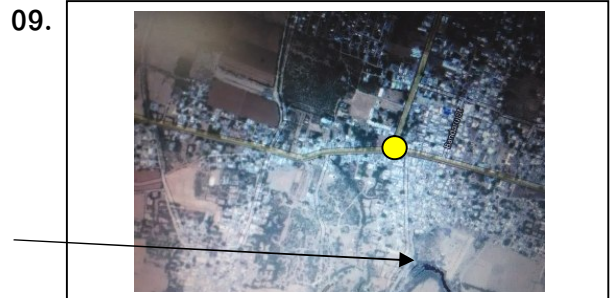
- ఎ) లవంగాలు                      బి) మిరియాలు  
సి) ఆవాలు                         డి) ధనియాలు

07. ప్రస్తుతం భారత దేశపు కరెన్సీ నందు ఏ నోటుపై

- పార్లమెంటు బొమ్మను ముద్రిస్తున్నారు?  
ఎ) 20 రూ.                         బి) 50 రూ.  
సి) 100 రూ.                        డి) 500 రూ.

08. తుమ్మినపుడు ఖచ్చితంగా జరిగే ప్రక్రియ

- ఎ) కళ్ళ వెంట నీరు కారుతుంది  
బి) కళ్ళ మూసుకుంటాము  
సి) కళ్ళు విశాలంగా తెరచుకుంటాయి  
డి) కంటి రెప్పలు వెంట వెంటనే ఆర్పుతాము



ఈ చిత్రంలో రింగ్ లో భాగం దోర్నాల నటరాజ్ కూడలి. అయితే గుర్తించబడిన భాగం

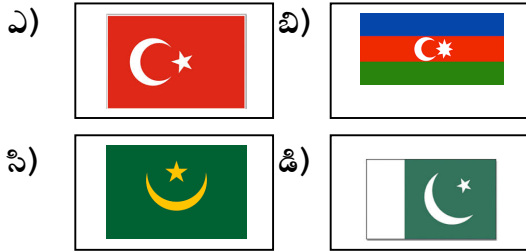
- ఎ) ఐనముక్కుల                      బి) హసానాబాద్  
సి) తిమ్మాపురం                      డి) కడపరాజుపల్లి

10. మీ సేవ- సంబంధించిన సమాచారాన్ని తెలుసు  
కొనుటకు లేదా సమస్యలను ప్రభుత్వ అధికారులకు  
తెలియజేయుటకు టోల్ ఫ్రీనెంబరు  
ఎ) 104                      బి) 1100  
సి) 1098                      డి) 1503

**జిల్లాలు, రాష్ట్రాలు, దేశాల సమాచారం**

11. మన రాష్ట్రంలో అతి పొడవైన తీరరేఖ గల జిల్లా  
ఎ) నెల్లూరు                      బి) శ్రీకాకుళం  
సి) విశాఖ                      డి) పశ్చిమ గోదావరి

12. క్రింది వానిలో పాకిస్థాన్ జాతీయ ఝండా.



13. బంగ్లాదేశ్ దేశపు జాతీయ క్రీడ  
ఎ) కబడ్డీ                      బి) హాకీ  
సి) క్రికెట్                      డి) బేస్ బాల్

14. ఇరాన్ రాజధాని నగరము.

- ఎ) టెహరాన్                      బి) బాగ్దాద్  
సి) రియాద్                      డి) మస్కట్

15. తూర్పుగోదావరి జిల్లా ముఖ్య పట్టణము

- ఎ) రాజమండ్రి                      బి) సామర్లకోట  
సి) రామచంద్రకోట                      డి) కాకినాడ

16. ప్రస్తుత చైనా అధ్యక్షుడు



17. విస్తీర్ణంలో ప్రపంచంలో పెద్ద దేశాల

- అవరోహణ క్రమము  
ఎ) రష్యా, చైనా, కెనడా, అమెరికా  
బి) రష్యా, కెనడా, చైనా, అమెరికా  
సి) రష్యా, కెనడా, అమెరికా, చైనా  
డి) రష్యా, కెనడా, చైనా, బ్రెజిల్

18. మయన్మార్ దేశపు కరెన్సీ

- ఎ) డాలర్                      బి) క్యాట్  
సి) యూరో                      డి) పౌండ్ స్టెర్లింగ్

19. సూర్యుడు అస్తమించు దేశము

- ఎ) అమెరికా                      బి) జపాన్  
సి) నార్వే                      డి) కెనడా

20. భారత మానవ వనరుల మంత్రిత్వ శాఖా మంత్రి



**లాజికల్ రీజనింగ్**

21. ఈ క్రింది శ్రేణిలో వచ్చే తదుపరి సంఖ్య

2, 3, 8, 63, .....

- ఎ) 125                      బి) 3968  
సి) 188                      డి) 2472

22. భిన్నమైన దానిని ఎంపిక చేయుము.

- ఎ) మిర్చి - రవితేజ                      బి) ఎవడు - అల్లు అర్జున్  
సి) తులసి - రాంచరణ్                      డి) ఈగ - ప్రభాస్

23. ఒక కోడ్ భాషలో COVER = QDUNB,

WISE = DRHV, అయితే JBHSR

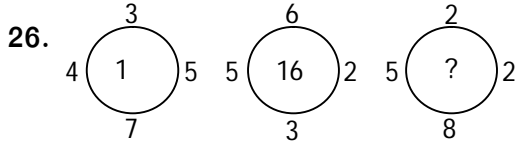
- ఎ) CLICK                      బి) QRGAI  
సి) FRAME                      డి) STICK

24. రాము, సీత కన్నా పొడుగు. అమర్, కృష్ణ కన్నా పొడుగు. అమర్ సీత కన్నా పొడవు కాదు. రాకేష్ అంత పొడవు రాము లేడు. అయితే పొట్టివాడు ఎవరు?

- ఎ) సీత                      బి) రవి  
సి) కృష్ణ                    డి) అమర్

25. రాము గోడకు ఉన్న ఫోటోను చూపించి 'ఫోటోలోని వ్యక్తి తండ్రి, నా భార్య కుమారుడు' అని చెప్పెను. అయితే ఫోటోలోని వ్యక్తికి రాము ఏమవుతాడు?

- ఎ) తండ్రి                    బి) తాత  
సి) పెదనాన్న              డి) మామ



- ఎ) 8                              బి) 17  
సి) 6                              డి) 19

27. 2015 ఫిబ్రవరి 28 వ తేదిన ఏ వారము?

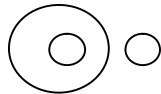
- ఎ) గురువారము            బి) శుక్రవారము  
సి) శనివారము              డి) అసలు ఉండదు

28. ఇంగ్లీషు వర్ణమాలలో ప్రతి రెండు అక్షరాలలో సరిస్థానాలలో లెటర్స్ బదులుగా బేసి స్థానాలలో లెటర్స్ను అమర్చితే; అలాగే బేసిస్థానాలలో లెటర్స్ బదులుగా సరి స్థానాలలో లెటర్స్ను అమర్చితే ; వెనుక నుండి 3 వ అక్షరం

- ఎ) W                            బి) X  
సి) U                            డి) V

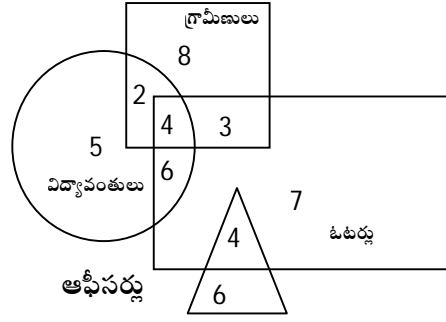
29. ఈ క్రింది వృత్త సముదాయము సూచించునది.

సంబంధాన్ని సూచించే వృత్త సముదాయము కానిది.



- ఎ) ప్రజలు, స్త్రీలు, పురుషులు  
బి) గాలి, ఆక్సిజన్, నీరు  
సి) నది, ఉపనది, సరస్సు  
డి) పుస్తకం, పేజీలు, పెన్ను

30.



పై పటము నుండి గ్రామీణ విద్యవంతులు అయి ఉండి మరియు ఓటర్లు కాని వారు మరియు ఆఫీసర్లు కాని వారు ఎందరు?

- ఎ) 7                              బి) 6  
సి) 4                              డి) 2

### వేగ గణితము

31.  $2454.4 + 324.446 + 32.96 + 2.004 = \dots$

- ఎ) 2931.846                    బి) 6156.266  
సి) 2813.81                    డి) 2944.766

32.  $45 \div 5 - 1 + 26 \div 13 - 4 \times 2 = \dots$

- ఎ) - 4                            బి) 2  
సి) 10                            డి) 23

33.  $1 + \sqrt{3 + \sqrt{13 + \sqrt{507 + \sqrt{x}}}} = 4$  అయిన

- X విలువ ఎంత?  
ఎ) 576                            బి) 484  
సి) 12324                        డి) 67

34.  $2^{2^3} + (2^2)^3 = \dots$

- ఎ) 576                            బి) 320  
సి) 192                            డి) 512

35.  $[102 + (-2) \{30 - 4 (32 - 13(6 - 5))\}] = ?$

- ఎ) 214                            బి) 194  
సి) 184                            డి) 284

36.  $1 + 4 + 9 + 16 + 25 + \dots + 1443 = ?$

- ఎ) 6054                            బి) 650  
సి) 578                            డి) 1250



53. భారత్, ఆఫ్ఘనిస్తాన్ సరిహద్దు రేఖ

- ఎ) రాడ్ క్లిఫ్ రేఖ      బి) మెక్ మోహన్ రేఖ  
సి) ఫెర్ఝానాండ్ రేఖ      డి) డ్యూరాండ్ రేఖ

54. జనగణమన కలకత్తాలో మొట్టమొదట .....

సంవత్సరంలో ..... తేదీన జరిగిన సదస్సులో  
ఆలపించారు?

- ఎ) 1911 డిసెంబర్ 27  
బి) 1920 జనవరి 26  
సి) 1942 ఆగష్టు 15  
డి) 1922 సెప్టెంబర్ 22

55. భారతదేశపు సుప్రీం కోర్టు ప్రస్తుత ప్రధాన

న్యాయమూర్తి

- ఎ) జస్టిస్ కపాడియా      బి) జస్టిస్ ఎన్.వి.రమణ  
సి) జస్టిస్ లోథా      డి) జస్టిస్ సదాశివం

56. ఆంధ్రా ప్యారిస్ అని దేనికి పేరు

- ఎ) తెనాలి      బి) కర్నూలు  
సి) నూజివీడు      డి) కొవ్వూరు

57. క్రింది వానిలో ఎత్తైనది

- ఎ) తాజ్ మహల్      బి) ఈఫిల్ టవర్  
సి) పీసా టవర్      డి) కుతుబ్ మీనార్

58. రిజర్వ్ బ్యాంక్ ఆఫ్ ఇండియా మాజీ గవర్నర్ కాని

వ్యక్తి

- ఎ) బిమల్ జలాన్      బి) కస్తూరి రంగన్  
సి) రంగ రాజన్      డి) మన్మోహన్ సింగ్

59. ఆంధ్ర ప్రదేశ్ రాష్ట్ర ఫలము

- ఎ) జామ      బి) రేగు పండు  
సి) మామిడి      డి) సీతాఫలము

60. పెద్దదోర్నాల్స్ స్టేట్ బ్యాంక్ ఆఫ్ ఇండియా IFSC

కోడ్ నెంబరు

- ఎ) SBIN 0012918      బి) SBIN 0008837  
సి) SBIN 0011117      డి) SBIN 0001117

## ఆంగ్ల వ్యాకరణ పరిజ్ఞానం

61. Which is correct

- ఎ) a bunch of flowers  
బి) a set of keys  
సి) a group of thieves  
డి) a mob of insects

62. "I helped him" – change into passive  
voice

- ఎ) He helped by me  
బి) He is helped by me  
సి) He was helped by me  
డి) I was helped by him

63. The manager ..... into the  
paper when his assistant came to see him.

- ఎ) looks      బి) looked  
సి) was looking      డి) is looking

64. The sun shines ..... day.

- ఎ) by      బి) in  
సి) at      డి) over

65. Which is wrong

- ఎ) He jumped upon the horse  
బి) They jumped upon the wall  
సి) Ramu danced on the dias  
డి) The monkey is upon the tree

66. You said, "I am unwell"

- change into reported speech

- ఎ) You said that you were unwell  
బి) You said that I was unwell  
సి) You said that you are unwell  
డి) You said that he was unwell

67. She is very late to school today. ....?

(use suitable question tag)

- ఎ) is she?                      బి) isn't she  
సి) hasn't she?                డి) doesn't she?

68. This is not a synonym of "Pledge"

- ఎ) belief                        బి) oath  
సి) solemn                      డి) promise

69. Degrees of the word "busy"

- ఎ) busy – more busy – most busy  
బి) busy – busier – busiest  
సి) busy – busy – busy  
డి) busy – busier – busiest

70. Never quarrel ..... your friends.

- ఎ) with                        బి) to  
సి) over                        డి) by

### క్రీడలు మరియు సినిమా పరిజ్ఞానం

71. 2014 అర్జున అవార్డుకు ఎంపికైన భారతీయ

- క్రికెటర్ రవిచంద్రన్ అశ్వినీ ఏ రాష్ట్రానికి చెందిన వాడు  
ఎ) పశ్చిమ బెంగాల్            బి) తమిళనాడు  
సి) కేరళ                        డి) కర్ణాటక

72. భారత హాకీ మాంత్రికుడు

- ఎ) గోపీ చంద్                బి) ప్రేమ్ చంద్  
సి) ధ్యాన్ చంద్                డి) సర్దార్ సింగ్

73. ఇటీవల చైనా సూపర్ లీగ్ టైటిల్ గెలిచిన

- భారతీయ షట్టర్ సింధు.పి.వి. యొక్క కోచ్  
ఎ) ఎస్.ఎం.ఆరిఫ్                బి) భట్టాచార్ జీ  
సి) విమల్ కుమార్                డి) పుల్లెల గోపి చంద్

74. సచిన్ టెండూల్కర్‌వద్దే క్రికెట్ మ్యాచ్‌లలో చేసిన

- అత్యధిక సెంచరీల సంఖ్య  
ఎ) 49                              బి) 65  
సి) 526                              డి) 99

75. క్రింది ఆటలలో ఒక ఆటలో మాత్రమే ఆట ఆడే

- ఆటగాళ్ళ సంఖ్య భిన్నంగా ఉంటుంది.  
ఎ) ఖో ఖో                        బి) హాకీ  
సి) ఫుట్ బాల్                        డి) క్రికెట్

76. కేవలం ఇద్దరు నటులతో మిథునం సినిమా తీసిన

- దర్శకుడు  
ఎ) కె.విశ్వనాథ్                    బి) తనికెళ్ళ భరణి  
సి) కె.రాఘవేంద్రరావు            డి) కె.బాల చందర్

77. ప్రఖ్యాత నటుడు తనికెళ్ళ భరణి నటించిన తొలి

- చిత్రం  
ఎ) చెట్టు కింద స్లీడర్  
బి) దొరబాబు  
సి) లేడీస్ టైలర్  
డి) శ్రీ కనక మహాలక్ష్మి రికార్డింగ్ డాన్స్ ట్రూప్

78. భారతీయ చలన చిత్ర రంగం ఏ సినిమాతో

- మొదలైంది?  
ఎ) ఆలం ఆరా                        బి) పుండరీక  
సి) రాజా హరిశ్చంద్ర                డి) భక్త ప్రహ్లాద

79. గబ్బర్ సింగ్ చిత్రం నందు ప్రతినాయకుని పాత్ర

- పోషించినది  
ఎ) ముఖేష్ బుషి                    బి) ఇర్ఫాన్ ఖాన్  
సి) అశుతోష్ రానా                    డి) అభిమన్యు సింగ్

80. ఈ క్రింది వానిలో చంద్రబోస్ రచించని పాట

- ఎ) చలి చలిగా అల్లింది గిలి గిలిగా గిల్లింది  
బి) అడిగి అడగ లేక ఒక మాటే అడగనా  
సి) అదరగొట్టు గొట్టు గొట్టు అదరగొట్టు విడియాన్నే  
డి) ఏ వచ్చి బి పై వాలే బి వచ్చి సి పై వలే



## కేంద్ర , రాష్ట్ర ప్రభుత్వ పథకాలు

81. జన్ ధన్ యోజన - పథకాన్ని ప్రారంభించిన తేదీ

- ఎ) 15 ఆగష్టు 2014      బి) 1 నవంబర్ 2014  
సి) 28 ఆగష్టు 2014      డి) 2 సెప్టెంబర్ 2014

82. సంసద్ ఆదర్స్ గ్రామ యోజనకు ఎంపికయిన

- దేశంలోని మొత్తం గ్రామాల సంఖ్య  
ఎ) 30                      బి) 3  
సి) 33                      డి) 323

83. ఎయిడ్స్ గురించిన సమాచారము కొరకు

- ప్రభుత్వం కేటాయించిన టోల్ ఫ్రీ నెంబర్  
ఎ) 1800-11-1097      బి) 1800-180-1551  
సి) 1800-180-5522      డి) 1800-180-1947

84. ఆధార్ నెంబర్ అని సుపరిచితమైన పదము

- యొక్క అంగ్ల సంక్షిప్త రూపం  
ఎ) AADHAR              బి) ADHAAR  
సి) AADHAAR              డి) ADHHAAR

85. స్వచ్ఛభారత్ కల సాకారం ..... నాటికి

- చేయాలని ప్రధాని నరేంద్రమోడి అభిలషించారు.  
ఎ) 2 అక్టోబర్ 2019      బి) 2 అక్టోబర్ 2018  
సి) 15 ఆగష్టు 2029      డి) 26 జనవరి 2029

86. సమాచార హక్కు చట్టం ద్వారా ప్రతి ప్రభుత్వ

- కార్యాలయం స్వచ్ఛందంగా మరియు ఉచితంగా ....  
అంశాలకు సంబంధించిన సమాచారాన్ని తయారు  
చేసి ప్రజలకు అందించాలి.  
ఎ) 15                      బి) 17  
సి) 21                      డి) 13

87. అమ్మ హస్తం పథకం ద్వారా 9 నిత్య అవసర

- వస్తువులను చౌకధరల దుకాణం ద్వారా కేవలం .....  
..... రూపాయలకే అందిస్తున్నారు?  
ఎ) 190                      బి) 125  
సి) 175                      డి) 185

88. విద్యా హక్కు చట్టం అమలైన సంవత్సరం

- ఎ) 2008                      బి) 2009  
సి) 2010                      డి) 2005

89. రాష్ట్ర ప్రభుత్వం రైతులకు వ్యవసాయ రంగంలో

- ఆధునిక పద్ధతులను తెలియజేసేందుకు చేపట్టిన  
పథకం  
ఎ) పొలం విద్య              బి) రైతు బాట  
సి) రైతు బంధు              డి) పొలం బడి

90. 500 మంది దళితులు నివసిస్తున్న ప్రాంతంలో

- రక్షిత మంచి నీటి సౌకర్యం కల్పించే పథకం  
ఎ) ఇందిర జలప్రభ  
బి) అంబేద్కర్ జీవన ధార  
సి) ఎన్.టి.ఆర్.సుజల స్రవంతి  
డి) రాజీవ్ జల ధార

### అంకగణితము - సమస్య సాధన

91. పాఠశాలలో 1024 మంది విద్యార్థులు కలరు.

- అందులో బాలురు, బాలికల నిష్పత్తి 5:3 అయిన  
బాలికలు ఎందరు? బాలురు ఎందరు?  
ఎ) 384, 650              బి) 384, 640  
సి) 640, 384              డి) 650, 374

92. 8 మంది గల కుటుంబానికి 20 రోజులకు సరిపడే

- ఆహారం విలువ 240 రూపాయలు. అయిన  
12 మంది గల కుటుంబానికి 15 రోజులకు  
సరిపడే ఆహారం విలువ ఎంత?  
ఎ) 165                      బి) 270  
సి) 230                      డి) 220

93. ఒక బఠాని గింజ బరువు 1.02 గ్రాములు. బఠాని

- గింజలు గల కవర్ బరువు 1 కేజీ 224 గ్రాముల  
బరువు ఉంటే అందులో గల బఠానీ గింజల సంఖ్య  
ఎంత?  
ఎ) 1200                      బి) 1400  
సి) 1250                      డి) 1600

94. 959 కి సమానమయిన రోమన్ సంఖ్య

- ఎ) DCCCCLIX      బి) CMLIX  
సి) CMXLIX      డి) CMLVIII

95.  $\frac{3}{888}$  కంటే  $\frac{5}{24}$  ఎంత తక్కువ?

- ఎ)  $\frac{4}{62}$       బి)  $\frac{2}{62}$   
సి)  $\frac{1}{8}$       డి)  $\frac{1}{6}$

96. తండ్రి, కొడుకుల వయసుల నిష్పత్తి 2:1 మరియు

20 సంవత్సరాల తర్వాత వారి వయసుల నిష్పత్తి  
3:2 అయితే 30 సంవత్సరాల తర్వాత కొడుకు  
వయస్సు ఎంత?

- ఎ) 35      బి) 70  
సి) 50      డి) 45

97. ఏ కనిష్ట సంఖ్యను తీసి వేసిన 56338

ఖచ్చిత వర్గం అగును?

- ఎ) 9      బి) 5  
సి) 7      డి) 8

98. పుస్తకంలో 350 పేజీలు ఉన్నాయి. భారతి అందు

లో  $\frac{2}{5}$  భాగం మొదటి రోజు మరియు  $\frac{1}{7}$  భాగం  
రెండవ రోజు చదివినది. అయిన భారతి ఎన్ని  
పేజీలు చదువడం పూర్తి అయినట్లు?

- ఎ) 180      బి) 120  
సి) 190      డి) 160

99. ఒక వస్తువును 600 రూపాయలకు కొని 5%

లాభానికి అమ్మితే; దానిని కొన్న వ్యక్తి మరలా 20%  
లాభానికి అమ్మితే; చివరగా అమ్మిన వెల ఎంత?

- ఎ) 750      బి) 630  
సి) 660      డి) 756

100. 90 రూపాయలకు ఎంత శాతము తీసివేస్తే

72 రూపాయలు అవుతుంది?

- ఎ) 10%      బి)  $\frac{50}{3}$ %  
సి) 20%      డి) 30%

contact at : [eledornala2010@gmail.com](mailto:eledornala2010@gmail.com)  
facebook : [eladornala2010@gmail.com](https://www.facebook.com/eladornala2010)  
visit at : [eladornala2010.weebly.com](http://eladornala2010.weebly.com)

Prepared by : V.NAGA MURTHY- 9441786635  
contact at : [nagamurthysir@gmail.com](mailto:nagamurthysir@gmail.com)  
visit at : [nagamurthy.weebly.com](http://nagamurthy.weebly.com)  
[nagamurthysir.weebly.com](http://nagamurthysir.weebly.com)

## SPONSORS

**Palla Siva Lalitha**

**Agricultural Extension Officer, P.Dornala**

**In the memory of Durgam Srikanth**

**(Dr. Durgam Balaji, PMP, Sri Sai Clinic , P.Dornala)**

**Shaik Shajeed Basha (Computer Basha)**

**Director, BICT-Computers ,Opp Police Station, P.Dornala**